


11 октября 2012 г.

1 класс

СТАРТ

1-я дистанция

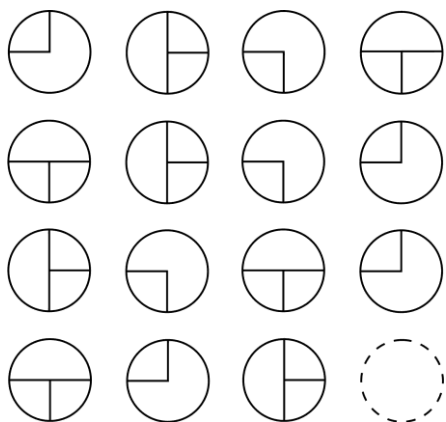
1. Мартышка хочет нарисовать фигурку Слона, не отрывая кисти от бумаги и не проводя по одной линии дважды. С какой точки ей нужно начать?



- 1) С
- 2) Л
- 3) Н
- 4) такой точки нет

195 м

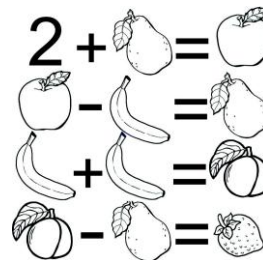
2. Какой круг из четырёх должен занять пустое место?



- 1)
- 2)
- 3)
- 4)

1 км


3. За каждым фруктом спрятались цифры: 5, 4, 3, 2, 1. Посмотри внимательно на каждый из четырех примеров и определи, какая цифра спряталась за клубничкой.



- 1) 1
- 2) 2
- 3) 3
- 4) 4

2 км

4. Слоник рассматривает картинку «Автобус в Москве». Помоги ему определить, в какую сторону движется автобус?



- 1) вправо
- 2) влево
- 3) невозможно определить
- 4) и вправо, и влево

2 км

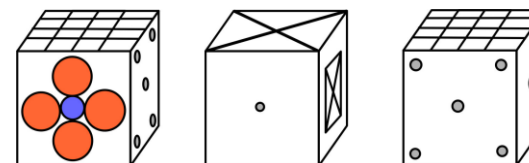
5. Какой по счёту кабачок, если считать овощи справа налево?



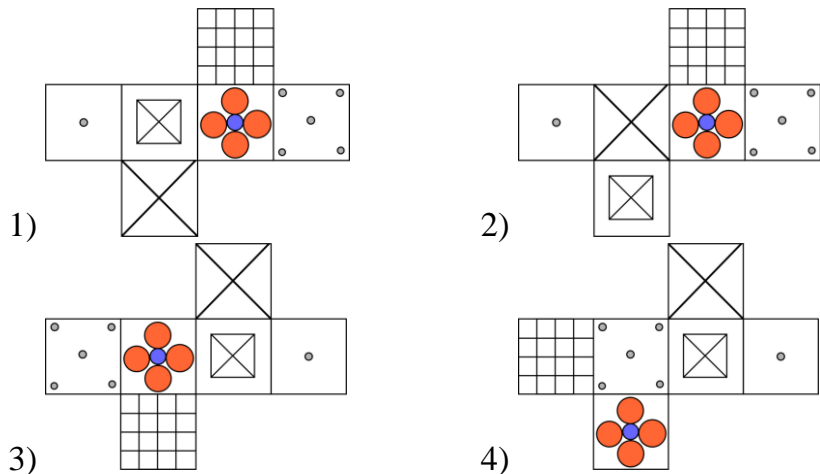
- 1) 7
- 2) 4
- 3) 5
- 4) 6

1 км

6. Кубик лежит перед нами разными сторонами. Какая развёртка кубика будет верной?



3 км



2-я дистанция

7. В коробке было 3 красных и 3 зелёных карандаша. Художник Слоник взял 4 карандаша. Сколько карандашей каждого цвета могло быть у Слоника?

- 1) 4 2) 3 3) 2 4) 1


2 км

8. Сколько математических знаков понадобится, чтобы записать подряд числа от 0 до 10?

- 1) 9 2) 10 3) 11 4) 12

2 км

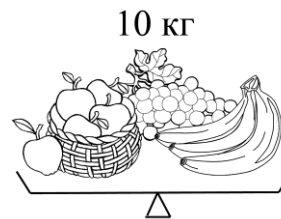
9. Сколько четырёхугольников изображено на рисунке?



- 1) 16 2) 15
3) 18 4) 14

3 км


10. Папа купил бананы, виноград и яблоки. Все фрукты весят 10 килограммов. Бананы весят не 5 килограммов и не 3 килограмма, яблоки – не 5 килограммов. Сколько килограммов весит виноград?



- 1) 10 2) 5
3) 3 4) 2

2 км

11. Сколько Мартышек весят Слонёнок вместе с Попугаем?



- 1) 5 2) 4 3) 3 4) 2





4 км

3-я дистанция

12. На конкурсе фотографий в финал попало четыре снимка. Но в итоге победила одна фотография, которой присвоили большее число баллов. Какая это фотография?

- 1 балл за каждую мартышку;
- 2 балла за каждого попугая;
- 3 балла за каждого слона.

4 км






- 1) 1 2) 2 3) 3 4) 4

13. Слоники располагаются в клетках по правилам:

- клетки со слониками никогда не соприкасаются, даже углами;
- цифры показывают, сколько слоников находится в восьми ближайших клетках;
- в клетке, где нарисован ананас, не может быть слоника.

Сколько слоников находится в квадрате?

					1
	3				
			4		
					
	3		3		2
					

- 1) 16 2) 11
3) 9 4) 7



14. Слоник с Мартышкой попали в заколдованный лес. Чтобы из него выбраться, им нужно собирать только съедобные грибы.

- У всех ядовитых грибов полосатая ножка, кроме тех, у которых шляпка в крапинку.
- У съедобных грибов белая ножка, кроме тех, у которых шляпка в полоску.

– Ядовитым считается гриб, у которого гладкая ножка и при этом шляпка без рисунка.
Сколько съедобных грибов собрали Слоник с Мартышкой?



- 1) 7 2) 11
3) 9 4) 6



15. Первоклассники Боря, Гена, Катя, Марта и Миша участвовали в Осеннем кроссе. Каждый из них хотел занять первое место. Но по результатам каждый занял одно из пяти мест. Марта прибежала раньше Гены, но после Миши. Боря и Миша не прибежали друг за другом, а Катя не стоит рядом ни с Мишей, ни с Мартой, ни с Борей. Кто из ребят стал победителем?

- 1) Марта 2) Миша 3) Боря 4) Катя

