




**Задания
Всероссийского конкурса-игры
по математике «Слон»**



1 февраля 2012 г.

1 класс

СТАРТ

1. На сколько 8 больше, чем 4?

А) на 2; Б) на 4; В) на 12; Г) на 6.

1 км



2 км

2. На весах, которые находятся в равновесии, на одной чаше лежат одно яблоко и две одинаковые груши. На другой чаше – два таких же яблока и одна такая же груша. Что легче – яблоко или груша?

А) яблоко; Б) они весят одинаково;
В) груша; Г) невозможно определить.

3. У Светы в игрушечном зоопарке 9 слонов, каждый из них розовый или лохматый. Лохматых слонов 5, а розовых – 7. Сколько среди них и розовых, и лохматых одновременно?

А) 6; Б) 5; В) 4; Г) 3.

3 км

4. Художник нарисовал красивое деревце в кадке. А так как он очень любит рисовать числа, он разместил несколько чисел на этом деревце.

Посмотри внимательно на рисунок и определи число, которое художник, по ошибке, нарисовал дважды?

А) 3; Б) 5; В) 8; Г) 10.

2 км



5. Фрекен Бок испекла всего 7 булочек разной формы: 3 круглые булочки, 4 треугольные булочки, 3 булочки с кремом, 1 круглую булочку с кремом.

Сколько треугольных булочек с кремом испекла Фрекен Бок?

А) 4; Б) 3; В) 2; Г) 1.

4 км

6. Маша получила в подарок на новый год четыре куклы.


Всем им она дала имена. Лиля меньше, чем Роза, Катя меньше, чем Роза, Таня меньше, чем Лиля, но не самая маленькая. Какое имя у каждой куклы?



А) Катя, Лиля, Роза, Таня Б) Катя, Лиля, Таня, Роза
В) Лиля, Катя, Роза, Таня Г) Лиля, Таня, Роза, Катя

4 км

7. Цирковому Слоннику надели праздничный колпачок над правым ухом. Перед выходом на арену Слонника сфотографировал фотограф. Какая из фотографий правдоподобна?




1



2



3

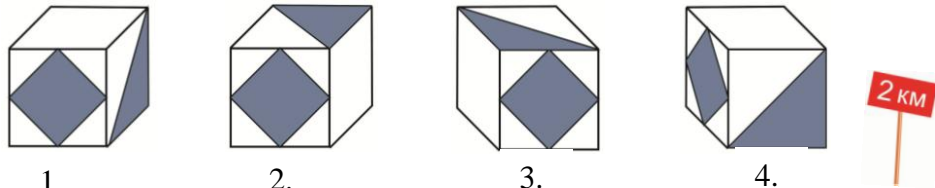


4

А) 1; Б) 2; В) 3; Г) 4.

3 км

8. Какой кубик «лишний»?



1. 2. 3. 4.
 А) 1; Б) 2; В) 3; Г) 4.

4 км

9. Сколькими способами Винни-Пух может сделать подарки друзьям Пятачку, Тигре и ослику Иа-Иа, если он хочет одному из них подарить баночку с вареньем, а двум другим по баночке с мёдом?

- А) 9; Б) 6; В) 3; Г) 1.

10. Дима хочет написать слово КОНКУРС. Он начал писать в четверг и пишет по одной букве в день.

В какой день недели Дима напишет последнюю букву?

- А) понедельник; Б) вторник;
 В) среда; Г) четверг.

2 км

11. Дети, наблюдая за утенком, заметили, что



- если сейчас он пищит, то через минуту он топает;
- если сейчас он хлопает крыльями, то через минуту – клюет зерно;
- если сейчас он топает, то через минуту он кивает головой;

- если сейчас он клюет зерно, то через минуту он пищит;
- если сейчас он кивает головой, то через минуту он хлопает крыльями.

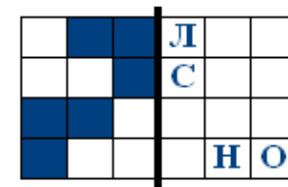
Что он будет делать через 6 минут, если сейчас он клюет зерно?

- А) клевать зерно; Б) пищать;
 В) хлопать крыльями; Г) топтать.

5 км

12. Какая буква не будет накрыта закрашенным квадратиком, если этот прямоугольник согнуть по жирной линии?

2 км



- А) С; Б) Л; В) О; Г) Н.

13. Под каждой фигурой спрятались цифры: 0, 2, 4. Посмотри внимательно на каждый из трёх примеров и определи: какое число спряталось за треугольником?

$$\triangle - \bigcirc = \triangle$$

$$\square + \bigcirc = \square$$

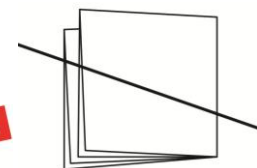
$$\square - \bigcirc + \square = \triangle$$

5 км

- А) 0; Б) 2; В) 4; Г) другое число.

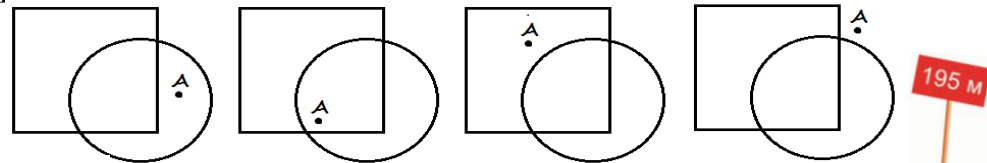
14. Лист бумаги сложили вчетверо и разрезали, как показано на рисунке. Сколько кусочков получилось?

3 км



- А) 2; Б) 3; В) 4; Г) 8.

15. Выбери рисунок, на котором точка А расположена внутри круга, но снаружи квадрата.



1. 2. 3. 4.
 А) 1; Б) 2; В) 3; Г) 4.

195 м

ФИНИШ